

# Desimaltall

## Skrive inn og plassere

Nr.	Skriv inn desimaltallene:
1	
2	
3	




# Matematikkopplegg

## Plassere desimaltall på en tallinje

# Desimaltall

## med tideler



# 1

### Forklaring og mål:


Eleven skal lære å plassere desimaltall med tideler på en tallinje. Eleven teller tidelene mellom heltallene og skriver inn riktig desimaltall i rutene.

### Desimaltall 0,0 – 2,0

Nr.	Skriv inn desimaltallene:
1	
2	
3	
4	
5	

# Desimaltall

## med tideler



# 1

### Forklaring og mål:

Eleven skal lære å plassere desimaltall med tideler på en tallinje. Eleven teller tidelene mellom heltallene og skriver inn riktig desimaltall i rutene.


### Desimaltall 0,0 – 4,0

Nr.	Skriv inn desimaltallene:
1	
2	
3	
4	
5	
6	



# Desimaltall

## med tideler



# 1

### Forklaring og mål:

Eleven skal lære å plassere desimaltall med tideler på en tallinje. Eleven teller tidelene mellom heltallene og markerer med bokstav og pil på riktig plassering av desimaltallet.

### Desimaltall 0,0 – 4,0

Nr.	Plassér desimaltallene:
1	<p>A = 0,3    B = 0,9    C = 1,2    D = 1,8    E = 3,5</p>
2	<p>A = 0,1    B = 0,5    C = 1,4    D = 2,0    E = 3,3</p>
3	<p>A = 0,7    B = 1,1    C = 1,9    D = 2,7    E = 3,4</p>
4	<p>A = 0,5    B = 1,0    C = 1,7    D = 2,2    E = 3,1</p>
5	<p>A = 0,4    B = 0,9    C = 2,1    D = 2,4    E = 3,6</p>

