

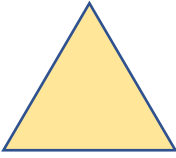
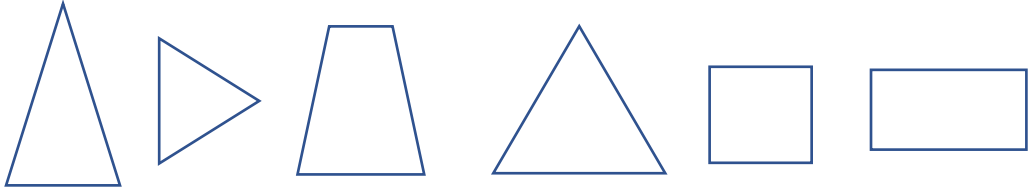
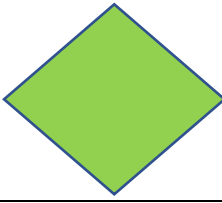
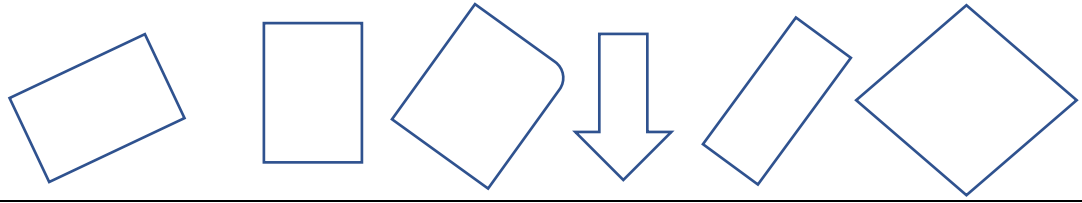
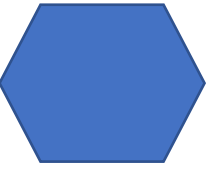




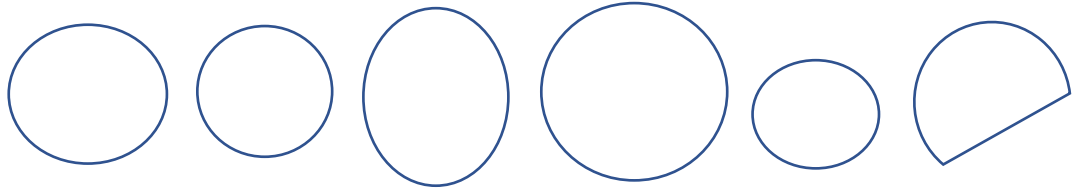

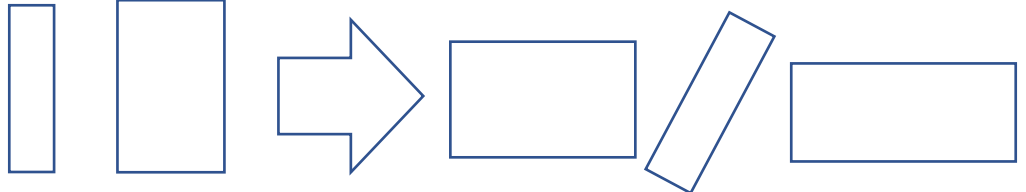

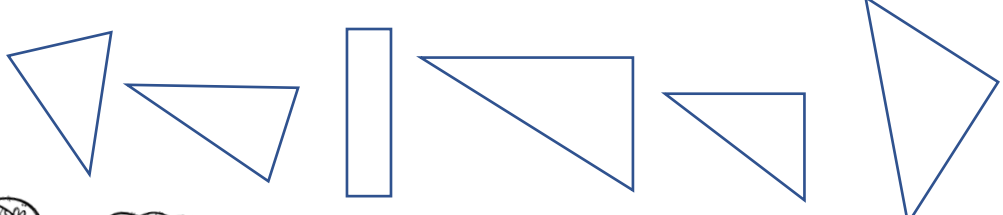
Gjenkjenne former

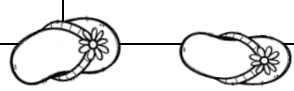

Finn lik figur og fargelegg


Forklaring:

Eleven skal finne og gjenkjenne oppgitte geometriske former og fargelegge dem med oppgitt farge.

Mål: Gjenkjenne formene til forskjellige geometriske figurer og skille dem fra hverandre.

Nr.	Finn lik figur og fargelegg.	
1		
2		
3		
4		
5		
6		
7		



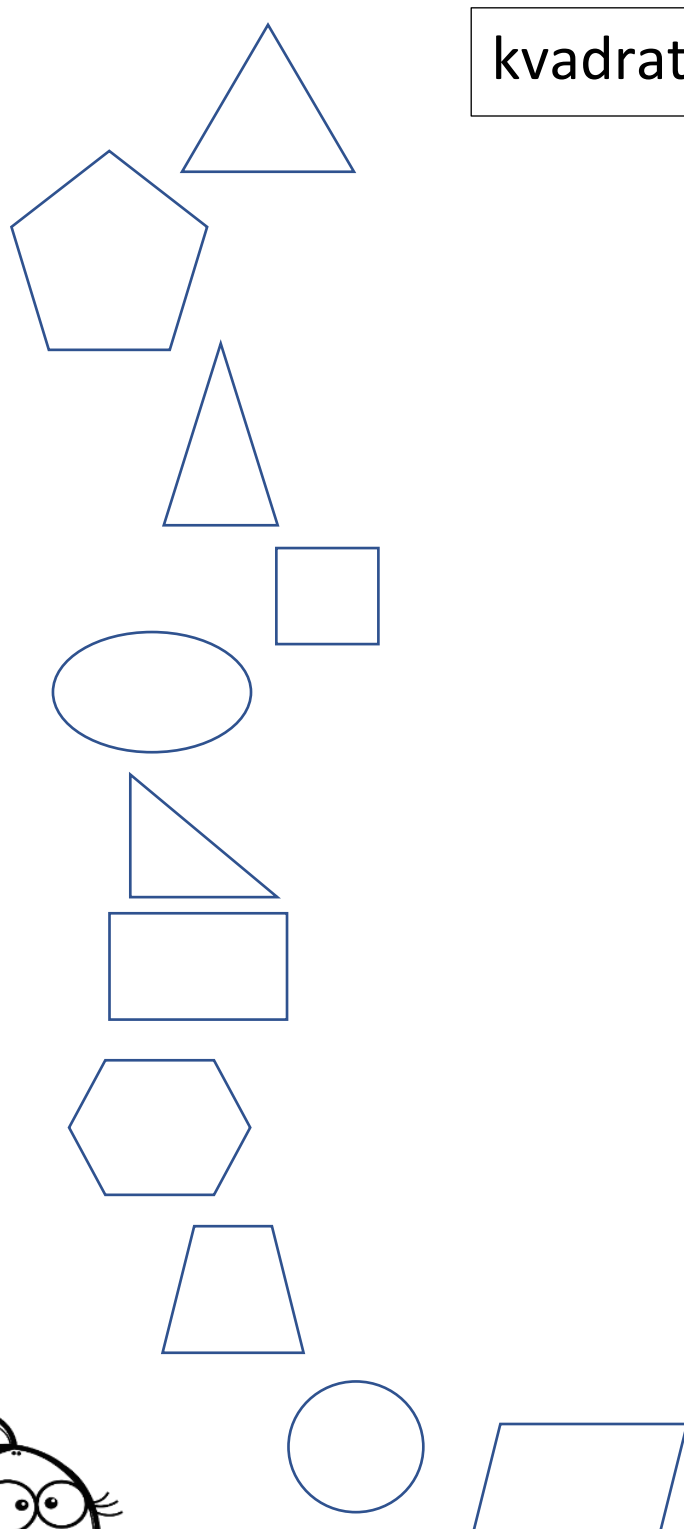



Navn på figurer

Forklaring:

Eleven skal gjenkjenne figurer og koble navn og figur ved å sette streker mellom riktig figur og navn. **Mål:** Gjenkjenne formene til forskjellige geometriske figurer og kunne navngi/gjenkjenne navn på figurene.


Koble navn og figur

Nr.	Sett strek mellom figur og navn på figur
1	<div style="display: flex; justify-content: space-between;"><div style="width: 45%;"></div><div style="width: 50%;"><div style="display: flex; justify-content: space-around;"><div style="border: 1px solid black; padding: 5px; width: 40%;">kvadrat</div><div style="border: 1px solid black; padding: 5px; width: 40%;">oval</div></div><div style="margin-top: 20px;"><div style="border: 1px solid black; padding: 5px; width: 80%;">rettvinklet trekant</div><div style="border: 1px solid black; padding: 5px; width: 80%;">rektangel</div><div style="border: 1px solid black; padding: 5px; width: 80%;">trapes</div><div style="border: 1px solid black; padding: 5px; width: 90%;">parallelogram</div><div style="border: 1px solid black; padding: 5px; width: 80%;">likesidet trekant</div><div style="border: 1px solid black; padding: 5px; width: 80%;">sirkel</div><div style="border: 1px solid black; padding: 5px; width: 80%;">sekskant</div><div style="border: 1px solid black; padding: 5px; width: 80%;">likebeint trekant</div><div style="border: 1px solid black; padding: 5px; width: 80%;">femkant</div></div></div></div>



Geometri

Navn: _____



1




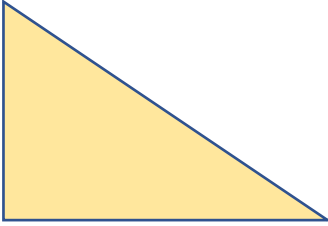

Figurers egenskaper


Forklaring:

Eleven skal gjenkjenne så mange som mulig av egenskapene til de geometriske figurene i hver oppgave og skrive disse ned på linjene.


Mål: Kunne gjenkjenne egenskaper til forskjellige geometriske figurer og beskrive disse.

Beskriv egenskapene

Nr.	Beskriv egenskapene til figurene:	
1		1. _____ 2. _____ 3. _____ 4. _____
2		1. _____ 2. _____ 3. _____ 4. _____
3		1. _____ 2. _____ 3. _____ 4. _____
4		1. _____ 2. _____ 3. _____ 4. _____
5		1. _____ 2. _____ 3. _____ 4. _____



Geometri



1

Gjenkjenne former

Finne og fargelegg

Forklaring:

Eleven skal finne og gjenkjenne oppgitte geometriske former og fargelegge dem med oppgitt farge. Elevene skal så finne ut hvor mange det er av de forskjellige formene og skrive antallet.

Mål: Gjenkjenne egenskapene til forskjellige geometriske figurer og skille dem fra hverandre.

Nr.	Finne figurene og fargelegg.	
1		<p>5. Fargelegg rektanglene blå. 6. Fargelegg sirklene røde. 7. Fargelegg trekanter grønne.</p> <p>Hvor mange fant du av:</p> <p>1. Rektangler: _____ 2. Sirklene: _____ 3. Trekanter: _____</p>
2		<p>1. Fargelegg kvadratene grønn. 2. Fargelegg rektanglene svarte. 3. Fargelegg sirklene gule.</p> <p>Hvor mange fant du av:</p> <p>1. Kvadrater: _____ 2. Rektangler: _____ 3. Sirkler: _____</p>
3		<p>1. Fargelegg likebeinte trekanter røde. 2. Fargelegg sirklene brune. 3. Fargelegg kvadratene lilla.</p> <p>Hvor mange fant du av:</p> <p>1. Likebeinte trekanter: _____ 2. Sirkler: _____ 3. Kvadrater: _____</p>

