


# Plassverdi

## Hundrere, tiere, enere

1	2	1	3	1	1	1	4
12	13	11	14				
1	0	1				1	2
10							2




A cartoon illustration of a girl with black hair and a green bow, wearing a yellow shirt and purple pants, and a boy with brown hair, wearing a blue shirt and purple pants. They are holding a whiteboard with the numbers 1, 2, and 3 written on it. The background consists of a grid of place value charts with columns labeled 1, 2, 1, 3, 1, 1, 1, 4 and rows containing numbers like 12, 13, 11, 14, 10, and 2.

# Matematikkopplegg

## Fargelegg hundrere, tiere og enere

# Tiere og enere



## Forklaring:


Hvor mange enere og tiere er det i tallet? Eleven skal fargelegge antall enere og tiere i tallet i ruten. Enere er i den grønne ruten, tierne i den røde ruten.

Mål: Bli trygg på plassverdisystemet og tiere og enere i tall.

## Tall med tiere og enere

1	2	1	3	1	1	1	4
	12 		13 		11 		14 
1	0	1	4	1	3	1	2
	10 		14 		13 		12 
1	5	1	1	1	0	1	3
	15 		11 		10 		13 

# Hundrere, tiere og enere



# 2

## Forklaring:

## Tall med hundrere, tiere og enere

Hvor mange enere, tiere og hundrere er det i tallet? Eleven skal fargelegge antall enere, tiere og hundrere i tallet i rutene. Enerne i den grønne ruten, tierne i den røde og hundrerne i den blå. Mål: Bli trygg på plassverdisystemet og hundrere, tiere og enere i tall.

1	6	3
		163 
1	2	7
		127 
2	5	5
		255 

1 2 3